

Nom : _____

Prénom : _____

Français

Plan 02

Je connais et utilise les règles d'orthographe : pluriel des noms en -eau, -au et -eu	1	2	3	4
---	---	---	---	---

Complète ce texte en notant correctement le pluriel des noms en gras.

Ce matin, nous avons fait nos **bagage**..... Nous avons pris les **landau**..... des petits, leurs **jeu**..... et le pique nique pour la journée. A 10 **heure**..... tout le monde était dans la voiture, prêts à partir. Malheureusement, en roulant, les **pneu**..... ont éclaté et nous avons dû nous arrêter. Heureusement Maman avait prévu des **chapeau**..... pour tout le monde !

Je connais le présent de l'indicatif : les verbes du 3 ^{ème} groupe.	1	2	3	4
---	---	---	---	---

Conjugué les verbes suivants au présent de l'indicatif

Je de quoi tu parles. (voir)

Marc et Olivier le bus tous les soirs pour rentrer chez eux. (prendre)

Sophie et moi toujours la vérité ! (dire)

Mais qu'est-ce que tu ici ? (faire)

Philippe en vacances ce soir. (partir)

Je sais distinguer noms propres et noms communs.	1	2	3	4
--	---	---	---	---

Donne 3 noms propres et 3 noms communs

nom propre	
nom commun	

Dans ce texte, souligne les noms propres et entoure les noms communs. Précise leur genre et nombre

Paul semble malheureux depuis que le froid est arrivé subitement. Ce petit garçon aime jouer au foot dehors avec ses amis Julien et Pierre.

Je sais reconnaître et transformer différents types de phrases : la phrase déclarative.	1	2	3	4
---	---	---	---	---

Souligne les phrases déclaratives

Qu'est-ce que tu fais ?
 Le petit chat boit son lait.
 Maman fait des crêpes.
 Comme il fait beau !

Transforme les phrases en phrases déclarative

Que cette crème est bonne !

 Range tes affaires.

Je sais différencier les types de déterminants : les articles	1	2	3	4
---	---	---	---	---

Indique la nature exacte des déterminants soulignés

Le petit chat va au fond du jardin et prend une balle pour jouer.

Je connais les mots étiquettes.	1	2	3	4
---------------------------------	---	---	---	---

Indique les mots étiquettes correspondants aux listes suivantes

- Lyon- Roussillon- Marseille- Rouen :
- goûter- déjeuner- dîner- petit déjeuner :
- coca - lait- jus d'orange- menthe à l'eau :

Je sais distinguer les homonymes grammaticaux : et - est - es - ai	1	2	3	4
--	---	---	---	---

Compléter avec est, et, ai ou es

Reste à la maison range ta chambre. J'..... pas envie ! Mais tu obligée, tu n'as pas le choix. C'..... moi qui décide, tu dois m'écouter faire ce que je dis.

Nom : _____

Prénom : _____

Evaluation cm1

Mathématiques

Plan 02

Je maîtrise l'addition des entiers.	1	2	3	4	Non observé
Je maîtrise la soustraction des entiers.	1	2	3	4	Non observé

Pose et effectue les calculs suivants.

$34\,567 + 4\,321 =$

$785\,903 + 83\,298 =$

$98\,751 - 340 =$

$601\,462 - 34\,835 =$

Je sais calculer le périmètre d'une figure.	1	2	3	4
Je connais et je sais utiliser des instruments de mesure.	1	2	3	4

Après avoir mesurer les côtés de ces figures, calcule leur périmètre et entoure celle qui a le plus petit périmètre

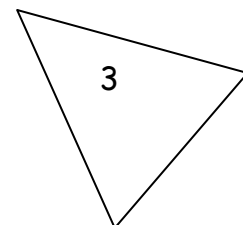
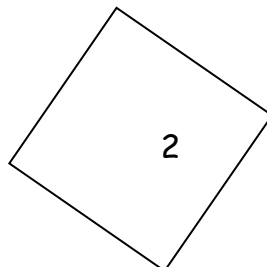
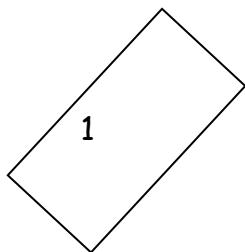


	Figure 1	Figure 2	Figure 3
Formule (si tu la connais)			
Périmètre			

Je connais la valeur des chiffres qui composent un nombre.	1	2	3	4
Je sais ordonner et comparer des nombres entiers.	1	2	3	4

Compare les nombres suivants et souligne à chaque fois le chiffre des dizaines de mille

34 567 2 890 902 345 90 234 48 317 48 320

Range les nombres suivants en ordre croissant (du plus petit au plus grand)

12 121 - 121 212 - 1 212 - 21 212 - 2 121 - 1 212 121 - 212 - 121

.....

Je sais reconnaître et tracer des droites parallèles.	1	2	3	4
Je sais faire des tracés précis.	1	2	3	4

Trace la figure qui correspond à ce message. Soit rigoureux ! : « d1 et d2 sont deux droites parallèles. d3 est perpendiculaire à d1. d4 est parallèle à d3. »

Quelle figure as-tu obtenu ?